

## Caderno de Provas

CPMG- P 1 A 11 NM


# AGENTE DE COMBATE DE CONTROLE ÀS ENDEMIAS

Edital Nº. 001/2019 – Prefeituras/Câmara  
Municipais do Mato Grande Potiguar/RN

Data: \_\_\_\_/\_\_\_\_/\_\_\_\_

### INSTRUÇÕES GERAIS PARA A REALIZAÇÃO DA PROVA

- Use apenas caneta esferográfica azul ou preta.
- Escreva a data, a sua assinatura e o número de inscrição no espaço indicado nesta capa.
- A prova terá duração máxima de 3 (três) horas, incluindo o tempo para responder a todas as questões do **Caderno de Provas** e preencher as **Folhas de Respostas**.
- Antes de retirar-se definitivamente da sala, entregue as **Folhas de Respostas** ao fiscal.
- O **Caderno de Provas** só poderá ser levado pelo candidato após decorridas 03h do início da prova.
- Este **Caderno de Provas** contém, respectivamente, 10 (dez) questões de Conhecimentos da Língua Portuguesa, 8 (oito) questões de Informática; 2 (duas) questões da História do Município de João Câmara e 10 (dez) questões de Conhecimentos Específicos.
- Se o **Caderno de Provas** contiver alguma imperfeição gráfica que impeça a leitura, comunique isso imediatamente ao Fiscal.
- Cada questão de múltipla escolha apresenta apenas **uma** resposta correta. Para a marcação da alternativa escolhida na **Folha de Respostas**, pinte completamente o campo correspondente conforme a figura a seguir:



- Os rascunhos e as marcações feitas neste **Caderno de Provas** não serão considerados para efeito de avaliação.
- Interpretar as questões faz parte da avaliação; portanto, não é permitido solicitar esclarecimentos aos Fiscais.
- O preenchimento das **Folhas de Respostas** é de sua inteira responsabilidade.
- A quantidade de questões objetivas e respectivas pontuações desta prova estão apresentadas a seguir:

| Disciplina                           | Número de questões | Pontos            |
|--------------------------------------|--------------------|-------------------|
| Língua Portuguesa                    | 10 questões        | 30 pontos         |
| Informática                          | 08 questões        | 24 pontos         |
| História do Município de João Câmara | 02 questões        | 6 pontos          |
| Conhecimentos Específicos            | 10 questões        | 40 pontos         |
| <b>Total de questões</b>             | <b>30 questões</b> | <b>100 pontos</b> |

ASSINATURA DO CANDIDATO:

NÚMERO DE INSCRIÇÃO :

QUESTÕES DE MÚLTIPLA ESCOLHA – LÍNGUA PORTUGUESA – NÍVEL MÉDIO

As questões de 1 a 10 referem-se ao texto reproduzido a seguir.

## Desigualdade global

As últimas décadas de crescente integração de mercados globais têm sido justamente celebradas pelo inequívoco progresso tecnológico e material que beneficiou quase toda a humanidade. Alguns, no entanto, ficam para trás, e uns beneficiam-se mais que outros.

Dito de outra maneira, cresce a desigualdade social. E as consequências de tal fenômeno, por muito tempo subestimadas, se fazem notar no cenário político de países ricos e emergentes.

Um contingente inédito de pessoas deixou a pobreza extrema, tecnicamente definida pela tarefa de sobreviver com menos de US\$ 1,90 (R\$ 7) por dia. Segundo o Banco Mundial, superaram essa condição mais de um bilhão de indivíduos ao longo de anos de bonança iniciados em 1990.

Para os 10% da população do planeta que permanecem na miséria, contudo, o horizonte é turvo. Desde a crise econômica de 2009, a ascensão desacelera. Mais veloz é a concentração de dinheiro nas mãos do 0,001% mais rico do planeta, cuja renda saltou 235% em 40 anos.

Nota-se, em particular no Ocidente, que entre centenas de milhões que abandonaram o fosso da pirâmide e dezenas de milhares cuja fortuna se multiplicou, as classes médias perderam participação na renda global.

O fenômeno não se deu de forma homogênea. Estudo de 2018 encabeçado pelo economista francês Thomas Piketty mostra, entretanto, que nenhuma região o evitou.

Mesmo na China, regime socialista que nos anos 1970 introduziu o capitalismo de controle estatal, o coeficiente Gini, medida da desigualdade em um país, saltou 0,15 ponto desde 1990 e chegou a 0,50 (sendo 0 a igualdade plena e 1 o extremo da concentração).

Na Europa, onde o Estado de bem-estar social está enraizado, a desigualdade é mais discreta do que em economias emergentes como as de Brasil, Índia e Oriente Médio — ou do que nos Estados Unidos, onde proteções sociais são túbias. Ainda assim, ela se faz sentir.

Tal compressão da classe média abasteceu um sentimento antiglobalização naqueles que assistiram a renda e emprego submergirem.

Ele se faz ouvir nas ruas e nas urnas com a emergência de um discurso populista que promete soluções fáceis — e equivocadas.

Líderes que se utilizam dessa retórica espúria emergem em países distintos com loas à xenofobia, ao protecionismo, ao nacionalismo, ao militarismo e, não raro, ao obscurantismo. Ameaçam, assim, conquistas civilizatórias, em vez de enfrentar de fato as falhas da globalização.

Disponível em: <<https://www1.folha.uol.com.br/>>. Acesso em: 03 set. 2019. (texto adaptado)

01. O texto, de forma preponderante, tematiza

- A) a globalização como fonte geradora de miséria.
- B) as atitudes populistas e a globalização.
- C) a globalização nos países desenvolvidos.
- D) as imperfeições do processo de globalização.

**02.** Considere o período:

Alguns, **no entanto**, ficam para trás, e uns beneficiam-se mais que outros.

O termo em destaque conecta

- A) períodos, sinaliza para o leitor uma relação de conclusão e poderia ser substituído, sem prejuízo ao sentido, por **portanto**.
- B) períodos, sinaliza para o leitor uma relação de contraposição e poderia ser substituído, sem prejuízo ao sentido, por **porém**.
- C) orações, sinaliza para o leitor uma relação de contraposição e poderia ser substituído, sem prejuízo ao sentido, por **entretanto**.
- D) orações, sinaliza para o leitor uma relação de conclusão e poderia ser substituído, sem prejuízo ao sentido, por **então**.

**03.** Considere o trecho:

Nota-se, em particular no Ocidente, **que** entre centenas de milhões **que** abandonaram o fosso da pirâmide e dezenas de milhares **cujas** fortuna se multiplicou, as classes médias perderam participação na renda global.

Sobre as palavras em destaque, é correto afirmar:

- A) a primeira é conjunção; a segunda é pronome e refere-se a “centena de milhões”; e a terceira é pronome e estabelece uma relação possessiva entre “fortuna” e “dezena de milhares”.
- B) a primeira é pronome e refere-se a “ocidente”; a segunda é conjunção; e a terceira é pronome e estabelece uma relação possessiva entre “fortuna” e “dezena de milhares”.
- C) a primeira é pronome e refere-se a “ocidente”; a segunda é conjunção; e a terceira é pronome e refere-se a “classes médias”.
- D) a primeira é conjunção; a segunda é pronome e refere-se a “centena de milhões”; e a terceira é pronome e refere-se a “fosso da pirâmide”.

**04.** Considere o período:

Segundo o Banco Mundial, superaram essa condição mais de um bilhão de indivíduos ao longo de anos de bonança iniciados em 1990.

Nesse período, há marcas linguísticas que evidenciam a presença de

- A) citação indireta, em que o autor transcreve literalmente o discurso da fonte citada.
- B) citação direta, em que o autor parafraseia o discurso da fonte citada.
- C) citação direta, em que o autor transcreve literalmente o discurso da fonte citada.
- D) citação indireta, em que o autor parafraseia o discurso da fonte citada.

**05.** A organização do texto converge, predominantemente, para

- A) a caracterização detalhada de um objeto, marcada pela descrição simultânea de suas partes e propriedades.
- B) a contraposição a uma tese anterior, com a apresentação de uma nova tese a ser desenvolvida com argumentos.
- C) a narração de acontecimentos situados em um tempo pretérito e pautados em uma relação de anterioridade e posterioridade.
- D) a orientação de ações marcadas linguisticamente por verbos no modo imperativo e que devem ser seguidas pelo leitor.

**06.** O texto apresenta traços dominantes que também são dominantes no gênero

- A) notícia.
- B) ata.
- C) artigo de opinião.
- D) conto.

**07.** Considere o período:

Desde a crise econômica de 2009, a ascensão desacelera.

A vírgula, nesse período, é justificada porque

- A) demarca o deslocamento de uma expressão de valor adverbial.
- B) demarca o deslocamento de uma expressão de valor adjetivo.
- C) separa trechos com mesma função sintática.
- D) separa orações em relação de coordenação.

**08.** Considere o parágrafo:

Dito de outra maneira, cresce a desigualdade social. E as consequências de tal fenômeno, por muito tempo subestimadas, se **fazem** notar no cenário político de países ricos e emergentes.

A flexão do verbo em destaque é justificada pela concordância com

- A) “a desigualdade social”.
- B) “países ricos e emergentes”.
- C) “as consequências”.
- D) “tal fenômeno”.

**09.** Considere o trecho:

Líderes que se utilizam dessa retórica espúria emergem em países distintos [...]

Há, nesse trecho,

- A) duas orações: uma principal e outra subordinada com valor substantivo.
- B) uma oração adjetiva explicativa.
- C) uma oração substantiva subjetiva.
- D) duas orações: uma principal e outra subordinada com valor de adjetivo.

**10.** A expressão “loas à xenofobia”, no contexto linguístico em que ocorre, apresenta sentido equivalente a





- A) apologia a comportamentos que revelam aversão ao que é estrangeiro.
- B) indiferença a comportamentos que revelam aversão ao que é estrangeiro.
- C) louvor a atitudes que enaltecem coisas e pessoas estrangeiras.
- D) negação de atitudes que revelam ódio a coisas e pessoas estrangeiras.

QUESTÕES DE MÚLTIPLA ESCOLHA – INFORMÁTICA – NÍVEL MÉDIO

11. O *Paper* é um novo tipo de documento o qual permite que equipes criem em conjunto, em um único lugar. Por meio dele, é possível trabalhar com todos os tipos de conteúdo, desde vídeos do *YouTube* a códigos e painéis do *Pinterest*. O *Paper* está disponível no

- A) *Dropbox*.
- B) *Google Drive*.
- C) *Onedrive*.
- D) *Small Drive*.

12. Nos editores de texto, existem algumas configurações que auxiliam em *layouts* avançados. Uma delas é realizada por meio do botão que transforma os caracteres ocultos, como espaços, marcadores de parágrafo ou somente marcas de tabulação. O botão com essa funcionalidade que aparece em várias versões do *Microsoft Word* é o

- A) 
- B) 
- C) 
- D) 

13. Alguns sítios na *internet* solicitam o cadastro de *login* e senha para liberar o acesso a determinados conteúdos, até os gratuitos. No *Mozilla Firefox*, é possível gravar tais informações para preenchimento automático nas próximas visitas a um *site*. O recurso para visualizar as informações de conta de acesso armazenadas é chamado de

- A) Contas e senhas.
- B) Gerenciador de senhas.
- C) *Keepass*.
- D) Segurança do usuário.

14. Durante expediente na prefeitura, é preciso ter agilidade para abrir os programas (aplicativos) mais usados. Uma das formas mais práticas de acessá-los no *Windows 10* é por meio da customização da barra de tarefas, fixando tais aplicativos. Para tanto, é necessário adotar os seguintes passos:

- A) clicar duas vezes com o botão esquerdo do *mouse* sobre ele, caso o aplicativo estiver aberto na Área de Trabalho. Desse modo, o aplicativo ficará fixo.
- B) clicar com o botão direito do *mouse* sobre o botão da barra de tarefas do aplicativo e selecionar **Fixar na barra de tarefas**, caso o aplicativo estiver aberto na Área de Trabalho. Desse modo, o aplicativo ficará fixo.
- C) clicar com o botão direito do *mouse* na Barra de tarefas e selecionar a opção **Mostrar barra de tarefas**. Desse modo, o aplicativo ficará fixo.
- D) clicar com o botão direito do *mouse*, no atalho do aplicativo na Área de Trabalho, escolher a opção **Enviar para e**, depois, clicar em **Barra de tarefas** para efetuar a configuração. Desse modo, o aplicativo ficará fixo.

15. Considere o trecho abaixo.

“Solução de segurança baseada em *hardware* ou *software* (mais comum) que, a partir de um conjunto de regras ou instruções, analisa o tráfego de rede para determinar quais operações de transmissão ou recepção de dados podem ser executadas”.

Essa descrição refere-se a um

- A) Antivírus.
- B) Detector de intrusão.
- C) *Firewall*.
- D) *Windows Defender*.

16. O navegador, que foi lançado, inicialmente, para o Windows 10 e Xbox One e como sucessor do Internet Explorer, é o

- A) Mozilla Firefox.
- B) Microsoft Opera.
- C) Google Chrome.
- D) Microsoft Edge.

17. Percebeu-se que a pasta Documentos disponível no *Windows 10* aumentou a quantidade de espaço utilizado no disco rígido, mas não é possível conseguir ver quais arquivos estão com um tamanho maior que o comum. Uma das formas de verificação é selecionar **Mostrar arquivos, pastas e unidades ocultos**. Já com o Explorador de Arquivos abertos, o caminho completo para chegar à opção almejada é

- A) Exibir > Opções > Alterar opções de pasta e pesquisa > Modo de Exibição > Configurações avançadas > Pasta e arquivos ocultos.
- B) Exibir > Propriedades > Pasta e Pesquisa > Modo de Exibição > Configurações avançadas > Mostrar arquivos ocultos.
- C) Início > Opções > Propriedades > Exibir > Configurações avançadas > Pasta e arquivos ocultos.
- D) Início > Propriedades > Modo de Exibição > Configurações avançadas > Mostrar arquivos ocultos.

18. Considere o trecho a seguir.

“Combina as células selecionadas em uma única célula ou divide células que foram unificadas em uma única”.

Essa descrição referente ao *LibreOffice Calc* versão 6.1 corresponde à funcionalidade de

- A) alterar células.
- B) mesclar células.
- C) alterar tema da planilha.
- D) unir células.

**QUESTÕES DE MÚLTIPLA ESCOLHA – HISTÓRIA DO MUNICÍPIO DE  
JOÃO CÂMARA – NÍVEL MÉDIO**

- 19.** A cidade de João Câmara está localizada no Estado do Rio Grande do Norte, Brasil. Sua distância da Capital, Natal, é de 72km. A cidade é conhecida com a Capital do Mato Grande, chegando à categoria de município com a denominação de Baixa Verde, pela lei estadual nº 697, de 29-10-1928, desmembrado dos municípios de Taipú, Touros e Lages. Seu primeiro prefeito foi
- A) João Severiano Câmara.
  - B) Odilon de Cabral de Macêdo.
  - C) Francisco de Assis Bittencourt.
  - D) Severiano Augusto de Andrade.
- 20.** A dinâmica econômica da cidade de João Câmara, desde sua emancipação ainda sob nome de Baixa Verde, foi historicamente desenvolvida por meio de alguns circuitos produtivos que projetaram a movimentação comercial e produtiva da cidade. Sobre tal assunto, é correto afirmar que:
- A) a cana-de-açúcar sempre foi a grande estrutura que impulsionou a economia da referida cidade.
  - B) com a infertilidade agrária do município, o comércio de produtos manufaturados tornou-se a uma alternativa de organização econômica.
  - C) a produção espacial da cidade se dá com o Algodão, que movimentava a economia e foi fundamental para a organização territorial da região.
  - D) a pecuária se tornou a grande atividade econômica que possibilitou toda a fundação do município.



**QUESTÕES DE MÚLTIPLA ESCOLHA – AGENTE DE COMBATE  
DE CONTROLE ÀS ENDEMIAS – NÍVEL MÉDIO**

21. A Lei 8.080/90 instituiu o Sistema Único de Saúde, constituído pelo conjunto de ações e serviços de saúde, prestados por órgãos e instituições públicas federais, estaduais e municipais, da administração direta e indireta e das fundações mantidas pelo poder público. Sendo assim, são princípios e diretrizes dessa lei:
- A) hierarquização, centralização e integralidade.
  - B) universalidade, participação popular e autonomia.
  - C) centralização, universalidade e integralidade.
  - D) universalidade, igualdade e integralidade.
22. A vigilância epidemiológica é o "conjunto de ações que proporcionam o conhecimento, a detecção ou prevenção de qualquer mudança nos fatores determinantes e condicionantes de saúde individual ou coletiva, com a finalidade de recomendar e adotar as medidas de prevenção e controle das doenças ou agravos". Essas ações visam:
- A) profilaxia; baixar a incidência; não ocorrência.
  - B) controle; monitoramento; ausência da doença.
  - C) não ocorrência; profilaxia; cura.
  - D) ausência da doença; cura; baixar a incidência.
23. Para ser Agente de Endemias, é preciso conhecer muito bem a sua comunidade, ter espírito de liderança e de solidariedade. Sendo assim, um dos requisitos para o cargo é
- A) conhecer a vida dos vizinhos do bairro.
  - B) ter idade mínima de 16 anos.
  - C) residir na comunidade há, pelo menos, dois anos.
  - D) ter disponibilidade de dois dias para exercer suas atividades.
24. Os equipamentos de proteção individual (EPI) são equipamentos que servem para proteção do contato com agentes infecciosos, substâncias irritantes e tóxicas, materiais perfurocortantes e materiais submetidos a aquecimento ou congelamento. É fundamental que o profissional da saúde utilize os EPI de forma correta. Sendo assim, na manipulação de amostras contendo agente infeccioso da tuberculose, é obrigatório o uso de
- A) luvas descartáveis e protetores de ouvidos.
  - B) jalecos e protetores faciais.
  - C) óculos e protetores de ouvidos.
  - D) máscara N95 e óculos de proteção.

- 25.** A identificação e o entendimento sobre os motivos pelos quais os indivíduos e populações adoecem são temas centrais sobre a epidemiologia. Os três modelos que explicam as ocorrências de doenças são:
- A) modelo sistêmico, modelo do agente e modelo do hospedeiro.
  - B) modelo ecológico, modelo de rede de causas e modelo sistêmico.
  - C) modelo ecológico, modelo biológico e modelo das dimensões individuais.
  - D) modelo biológico, modelo orgânico e modelo das dimensões individuais.
- 26.** O ofidismo constitui, dentre os acidentes por animais peçonhentos, o de maior interesse médico pela frequência e gravidade. Esses acidentes ocorrem em todo o país, mas, quanto à distribuição de gêneros de serpente peçonhentas, o acidente botrópico tem maior predomínio com 84%. O tratamento indicado para esse gênero de serpente consiste no uso de
- A) soro antibotrópico.
  - B) soro anticrotálico.
  - C) soro antielapídico.
  - D) soro antiaracnídico.
- 27.** Consiste em “expressão usada para fazer referência a todas as variáveis que envolvem a saúde e a doença de um indivíduo ou população e considera que ambas estão interligadas e são consequência dos mesmos fatores”. Esse trecho refere-se ao
- A) processo transmissão.
  - B) processo terapêutico.
  - C) processo saúde-doença.
  - D) processo diagnóstico.
- 28.** De acordo com as diretrizes das competências sobre o agente de endemias, o espaço geográfico delimitado que corresponde à área de atuação é denominado de
- A) macroárea.
  - B) microárea.
  - C) distrito.
  - D) território.
- 29.** A dengue é um problema de saúde pública para várias capitais brasileiras. Até dia 20 de julho de 2019, o Rio Grande do Norte notificou 23.091 casos suspeitos de dengue, sendo 4.195 casos já confirmados. Assim, conhecendo-se o causador da dengue e seu vetor, pode ser usada como medida profilática:
- A) eliminação dos insetos vetores do vírus causador dessa doença.
  - B) exterminação de ratos vetores do vírus causador dessa doença.
  - C) vacinação em massa da população contra a bactéria causadora dessa doença.
  - D) distribuição de antibióticos contra a bactéria causadora dessa doença.

**30.** De acordo com o Programa da Saúde Familiar (PSF), existem “os membros que assumem papel de parceiros da comunidade atuando na prevenção e no controle de doenças e agravos à saúde, em interação direta com os ACSs e com a autoridade sanitária do ente de atuação, seja Município, Estado ou Distrito Federal”. A citação refere-se ao seguinte membro

- A) enfermeiro.
- B) agente de combate a endemias.
- C) auxiliar de enfermagem.
- D) médico.